

## I Нұсқа

### 1-билет

1. Адамзат баласының Жер бетінде пайда болуы жөніндегі көзқарастар.
2. 1867-1868жж. «Уақытша ереже» мен 1886-1891жж. «Ережелердің» арасындағы өзгерістер.
3. 1920-1924 жылдары Қазақ АКСР- інің құрамына біріктірілген Қазақ жерлерінің аумақтарын картадан белгілеңіз. Қандай әкімшілік-аймақтардың кіргенін анықтаңыз.



## 2-билет

1. Адам баласының биологиялық даму эволюциясы мен әлеуметтік ұйым формалары қалыптасуын талдаңыз.
2. Қарқаралы петициясы және оның тарихи маңызы.
3. XVIII ғасырдағы патша үкіметінің отарлау саясатына қарсы ұлт-азаттық көтерілістер орын алған аумақтарды белгілеңіз және олардың маңызын анықтаңыз.



### 3-билет

1. Түрік дәуірі .«Түрік» атауы туралы пікірлер.
2. 1921-1922ж. және 1930-1932 жылдардағы Қазақстандағы аштықтың зардаптарын салыстырыңыз.
3. XIX ғасырдағы патша үкіметінің отарлау саясатына қарсы ұлт-азаттық көтерілістер орын алған аумақтарды белгілеңіз және олардың маңызын анықтаңыз.



#### 4-билет

1. Кенесары Қасымұлы бастаған ұлт-азаттық көтерілістің басқа көтерілістерден айырмашылығы .
2. 1979ж. Целиноград оқиғасы мен 1986ж. желтоқсан көтерілісін салыстырып, ерекшеліктерін анықтаңдар.
3. Есік қорғанынан табылған сақ ханзадасының баскиімі мен Қарғалы шатқалынан табылған тәтіде бейнеленген ортақ белгілерді және айырмашылықтарды анықтаңыз.



### 5-билет

1. Қаңлы мемлекеті (әкімшілік шекарасы, қоғамдық құрылысы, сыртқы саясаты, мәдениеті.)
2. 1916 жылғы көтерілісті 1929-1931 жылдардағы көтеріліспен салыстырып, ұқсастықтарын анықтаңыз.
3. Ұлы Жібек жолының Қазақстан жері арқылы өткен тармақтары және ортағасырлық қалаларды картадан белгілеңіз.



## 6-билет

1. Андрон мәдениеті туралы мәліметтерді талдаңыз.
2. Қазақстан Республикасының ұзақ мерзімдік даму бағдарламалары “Қазақстан – 2030,, және “Қазақстан – 2050,, стратегияларына салыстырыңыз.
3. 1867-1868 жылдардағы реформалар бойынша қазақ жерінде құрылған генерал - губернаторлықтар мен олардың құрамына кірген облыстарды картаға белгілеңіз.



## 7-билет

1. Әбу Насыр әл-Фарабидің әлемдік мәдениетке қосқан үлесі.
2. «Алаш» партиясы.«Алаш» партиясының бағдарламасындағы басты мәселелер.
3. Сақтардың құрамына кірген тайпалар және олардың қоныстанған аймақтарын картаға белгілеңіз.





### 8-билет

1. Беғазы-Дәндібай мәдениеті және оның ерекшеліктері.
2. Батыс Түрік қағанатының Шығыс Түрік қағанатынан айырмашылығы.
3. 1916 жылғы ұлт-азаттық көтеріліс болған жерлерді картаға белгілеңіз.





### 9-билет

1. Ұлы Жібек жолының Қазақстанның экономикалық және әлеуметтік-саяси тарихындағы рөлі.
2. Қазақ АКСР-нің құрылуының тарихи маңызы.
3. Есік қорғанынан табылған алтын адаммен Шілікті қорғанынан табылған алтын адамның ортақ белгілері мен айырмашылықтары.





### 10 –билет

1. Түріктердің рухани мәдениеті (жазба ескерткіштері, діни наным-сенімдері)
2. Түркістан (Қоқан) автономиясының құрылуы және оның тарихи маңызы.
3. Қазақ жүздерінің (Ұлы, Орта, Кіші жүздер) орналасу аумақтарын картаға белгілеңіз.



## 11 –билет

1. Қарлұқ қағанаты.(Территориясы, этникалық құрамы, саяси тарихы туралы деректер).
2. Ұлы Отан Соғысынан кейінгі жылдардағы мәдениет, ғылым және ондағы келеңсіз жағдайлар. Е.Бекмаханов, М.Әуезов, Қ.Сәтпаевтің тағдырларын талдаңыз.
3. Геродоттың «Тарих» пен Страбонның «География» еңбектеріндегі деректердің ұқсастығы неде?





## 12–билет

1. Ғұндардың діни наным-сенімдері мен әдет-ғұрыптарын, әскери өнері.
2. Қазақ зиялыларының ұлттық өкімет құру жолындағы іс-әрекеттері және «Алаш» қозғалысының тарихи мәнін талдаңыз.
3. Аттила мен Бейбарыс сұлтанның тарихта алатын орнына талдау жасаңыз.



### 13–билет

1. Батыс Түрік қағанаты (саяси тарихы, этникалық құрамы, мәдениеті )
2. «Алаш» және «Түркістан» автономияларының саяси бағыттарының айырмашылықтары.
3. Қытай саяхатшысы Чжан Цянь мен Шоқан Уәлихановтың сапарын салыстыра сипаттап, мақсатын, ерекшеліктерін атаңдар.



### 14- билет

1. Неолит дәуірі және оның ерекшеліктері.
2. Ұлы Отан соғысы жылдарындағы қазақстандықтардың тылдағы ерлігі.
3. Дамыған орта ғасырлардағы (X-XIIIғ. басы) Қазақстан аумағындағы мемлекеттер және олардың орналасқан аймақтарын картаға белгілеңіз.



### 15- билет

1. Үйсін мемлекеті (шаруашылығы мен тұрмысы, мәдениеті)
2. I және II дүниежүзілік соғыс кезіндегі Қазақ халқының жағдайын салыстыра отырып, талдау жасаңыз.
3. Ерте орта ғасырлардағы (VI-IXғғ.) Қазақстан аумағындағы мемлекеттер және олардың орналасқан аймақтарын картаға белгілеңіз.





### 16- билет

1. Ғұндар мен монғолдарың қоғамдық құрылысы мен соғыс өнеріндегі ортақ белгілері.
2. ХХғ. басындағы «Айқап» журналы мен «Қазақ» газетінде көтерілген мәселелер.
3. XIII-XV ғғ. Қазақстан аумағындағы мемлекеттер және олардың орналасқан аймақтарын картаға белгілеңі



### 17- билет

1. Оғыз мемлекеті (территориясы, этникалық құрамы, саяси тарихы)
2. Астананың Ақмола қаласына көшірілуінің себептері мен тарихи маңызы.
3. Қазақстан аумағындағы сақ-сармат дәуірінің археологиялық ескерткіштері және олардан табылған алтын киімді адамдардың обаларын картаға белгілеңіз.




### 18- билет

1. Ақ Орда (саяси тарихы, мәдениеті, шаруашылығы)
2. 1993жылғы 1995 жылғы қабылданған Қазақстан Республикасы Конституцияларының негізгі өзгерістері.
3. Б.з.б. III ғасыр мен б.з.-дың V ғасыры аралығында өмір сүрген Қазақстан аумағындағы тайпалық бірлестіктердің орналасқан аймақтарын картаға белгілеңіз.



### 19- билет

1. Түргеш қағанаты (территориясы, этникалық құрамы, саяси тарихы)
2. Қазақстандағы экологиялық проблемалардың негізгі себептері.
3. Аттила мен Шыңғысханның тарихта алатын орныны.



## 20- билет

1. VI-XII ғғ. Қазақстанның ғалымдары мен ойшылдарының әлемдік мәдениетке қосқан үлесін талдаңыз (әл-Фараби, М.Қашқари, Ж.Баласағұн, Қ.А.Ясауи және т.б.)
2. 1916 ж. көтерілістің алғышарттары, сипаты, көтерілістің негізгі ошақтары және маңызы.
3. Қазақстан аумағындағы неолит дәуірінің тұрақтарын картаға көрсетіңіз.



## 21- билет

1. Атлаx шайқасы және оның тарихи маңызы.
2. Ресейдегі Қазан төңкерісі және оның Қазақстанға әсері.
3. Қазақстан аумағындағы мал шаруашылығының (көшпелі, жартылай көшпелі, отырықшы) қалыптасқан өңірлерін картаға көрсетіңіз.



## 22- билет

1. Есім ханның тұсындағы Қазақ хандығы.
2. 1917 жылғы Ақпан және Қазан төңкерістерінің нәтижесін салыстырыңыз.
3. Қазақстан аумағындағы қола дәуірінің тұрақтарын картаға белгілеңіз.





## 23- билет

1. Абылай ханның қазақ мемлекеттілігін нығайтудағы шаралары.
2. «Әскери коммунизм» саясаты мен Голощекиннің «Кіші Қазан» саясатын салыстырыңыз.
3. Қазақстан аумағындағы ашель кезеңінің тұрақтарын картаға көрсетіңіз.



## 24- билет

1. И.Тайманұлы мен М.Өтемісұлы бастаған ұлт- азаттық көтеріліс және оның тарихи маңызы.
2. Ауыл шаруашылығын жаппай ұжымдастыруға көшу, олардың әдістері, қарқыны және зардаптары.
3. Қазақстан аумағындағы мустье кезеңінің тұрақтарын картаға көрсетіңіз.




## 25-билет

1. Сырым Датұлы бастаған ұлт- азаттық көтеріліс және оның тарихи маңызы.
2. «Тоқырау» жылдардағы Қазақстан мәдениеті мен ғылымы.
3. Қазақстан жерінде құрылған ұлыстардың (Жошы, Шағатай, Үгедей) және аумақтарын картаға белгілеңіз.



## 26-билет

1. Жетісудың сақ дәуіріндегі археологиялық ескерткіштеріне сипаттама беріңіз.
2. «ЭКСПО- 2017» көрмесін өткізудің тарихи маңызы.
3. Ортағасырлық ғұламалар Ж.Баласағұн мен М.Қашқаридің еңбектеріне талдау жасаңыз.



### 27-билет

1. Қарахан мемлекеті (территориясы, этникалық құрамы, саяси тарихы)
2. 1986 жылы «Желтоқсан оқиғасының» себептерін және тарихи маңызы.
3. Сақтардың Шығыс Қазақстан өңіріндегі археологиялық ескерткіштерін картаға белгілеңіз.



## 28-билет

1. Қыпшақ мемлекеті (территориясы, этникалық құрамы, саяси тарихы)
2. Патшалық Ресей және Кеңес империяларының Қазақстандағы отарлау саясатының зардаптары.
3. Сақ тайпалары: аргиппей, исседон, аримаспылардың алып жатқан аумақтарын картаға белгілеңіз.





### 29-билет

1. VI-XII ғғ. Қазақстан аумағындағы тайпалардың рухани мәдениеті: (тілі, діні, жазуы)
2. Қазақстандағы ЖЭС: оның жетістіктері және мерзімінен бұрын аяқталуының себептері мен салдары.
3. Дешті Қыпшақтың аумағын картаға белгілеңіз.





### 30-билет

1. Ежелгі адамдардың қоршаған орта туралы түсінігі.
2. Жоспарлы экономика мен нарықтық экономика арасындағы ерекшеліктер.
3. Қасым хан тұсындағы Қазақ хандығының аумағын картаға белгілеңіз.



## II Нұсқа 1-билет

1. Неолит ескерткіштерінің шоғырланған аймақтары, олардың негізгі белгілері.
2. Қазақстан Республикасындағы саяси партиялар мен қоғамдық ұйымдардың атқаратын қызметтерінің ұқсастықтары мен айырмашылықтарын талдаңыз.
3. Қарахан мемлекетінің аумағын карта бойынша көрсетіңіз.



## 2-билет

1. Мезолит адамдарының өміріндегі өзгерістер.
2. Қасым мен Тәуке хандардың билігін салыстыра отырып, ішкі, сыртқы саясатындағы ұқсастықтарды талдаңыз.
3. 1920 жылдардан бастап Қазақстанның астаналары болған қалаларды карта бойынша көрсетіңіз және болған жылдарын анықтаңыз.



### 3-билет

1. Алғашқы орта ғасырдағы Түрік қағанатын құрылуы мен саяси жағдайы.
2. 1822 ж. «Сібір қырғыздары туралы ережесінің» қабылдануы, оның мәні мен мақсатын анықтаңыз.
3. Ақ Орда мемлекетінің аумағын карта бойынша көрсетіңіз.



#### 4-билет

1. Қимақ қағанаты (саяси жағдайы, шаруашылығы , мәдениеті )
2. «Үш жүз» бен «Алаш» партиясын салыстырыңдар. Сипаты, алдына қойған мақсатында қандай айырмашылықтар болды?
3. Ноғай Ордасының аумағын карта бойынша көрсетіңіз.



## 5-билет

1. Түркеш қағанаты (саяси жағдайы, шаруашылығы , мәдениеті )
2. «Мәдени мұра» мемлекеттік бағдарламасы және оның тарихи маңызы.
3. Әбілқайыр хандығы (Өзбек хандығы) аумағын карта бойынша көрсетіңіз.



## 6-билет

1. Қарақытай мемлекеті (қоғамдық құрылысы, саяси тарихы)
2. Дүние жүзі қазақтарының құрылтайы және оның тарихи маңызы.
3. Моғолстан мемлекетінің аумағын карта бойынша көрсетіңіз.





## 7-билет

1. Үйсіндер тарихы (қоғамдық құрылысы, шаруашылығы мен тұрмысы)
2. «Мәңгілік Ел» - ұлттық идеясының негізгі мақсаты және тарихи маңызын анықтаңыз.
3. XVI- XVIII ғғ. Қазақ хандығының астаналарын карта бойынша көрсетіңіз.



### 8-билет

1. Қаңлылар тарихы (қоғамдық құрылысы, шаруашылығы мен тұрмысы)
2. Қазақстан ЕҚЫҰ-на төрағалық етуінің тарихи маңызына талдау жасаңыз.
3. Монғол шапқыншылығына қарсы күрескен қалаларды (Отырар, Сығанақ, Ашнас ) карта бойынша көрсетіңіз.



### 9-билет

1. Қола дәуіріндегі шаруашылық және қоғамдық – мәдени өміріндегі өзгерістер.
2. Ж.Нұрмұхамедұлы мен Е.Көтібарұлы бастаған көтерілістердің ортақ және ерекше белгілерін анықтаңдар.
3. Қарақытай мемлекетінің аумағын карта бойынша көрсетіңіз.



### 10-билет

1. Кенесары Қасымұлы бастаған ұлт-азаттық көтеріліс (мақсаты, кезеңдері және сипаты)
2. Қазақстан Республикасын нарықтық қатынастарға көшірудегі орын алған қиыншылықтарға сипаттама беріңіз.
3. Сармат тайпаларының қоныстанған аумағын карта бойынша көрсетіңіз.



### 11-билет

1. Қазақ хандығының құрылуына байланысты жазылған ортағасырлық деректерді талдаңыз.
2. Ф.И.Голощекиннің Қазақстандағы партия ұйымының басшылығына тағайындалуы және оның «Кіші Қазан» идеясы.
3. Энеолит дәуірінің қоныстарын (Ботай, Шөбір) карта бойынша көрсетіңіз.



## 12-билет

1. Қазақ хандығындағы билердің рөлі мен атқарған қызметіне жан-жақты баға беріңіз.
2. Қазақстандағы социалистік индустрияландыру саясатының мазмұны, нәтижелері мен салдарын ашып көрсетіңіз.
3. Оғыз мемлекетінің аумағын карта бойынша белгілеңіз.



### 13-билет

1. «Анимизм», «тотемизм», «фетишизм» терминдерінің мағынасына түсінік беріңіз.
2. Қазақстандағы ұжымдастыру саясаты және оған қарсы көтерілістерді талдаңыз.
3. Қарлұқ мемлекетінің аумағын карта бойынша белгілеңіз.





### 14-билет

1. Беғазы-Дәндібай мәдениеті мен Андрон мәдениетінің ерекшеліктерін салыстырыңыз.
2. 1920-1930 жж. Кеңес өкіметінің мәдениет пен ғылым саласындағы жетістіктері мен қайшылықтарына талдау жасаңыз.
3. Түркеш қағанатының аумағын карта бойынша белгілеңіз.



### 15-билет

1. «Протекторат», «геосаясат», «экспансия», «еуроцентризм» терминдерінің мағынасына түсінік беріңіз.
2. 1867 ж. «Жетісу және Сырдария облыстарын басқару туралы Уақытша Ереженің» мақсаты мен міндеттерін анықтаңыз.
3. 1929-1931 жж. Қазақстанда ұжымдастыру саясатына қарсы қарулы қақтығыс орын алған аудандарды карта бойынша белгілеңіз.



### 16-билет

1. Сақтардың мәдениеті, діни нанымдары мен әдет-ғұрыптары туралы түсінік беріңіз.
2. Тың және тыңайған жерлерді игерудің кезеңдері, нәтижелері мен салдарын анықтаңыз.
3. 1891 жылғы ереже бойынша қазақ жерінде құрылған генерал - губернаторлық және оның құрамына кірген облыстарды карта бойынша белгілеңіз.



### 17-билет

1. Сарматтардың шаруашылығы мен тұрмысы.
2. Ұлы Отан соғысы жылдарындағы қазақстандықтардың майдандағы ерлігін ашып көрсетіңіз.
3. Қазақстан Республикасындағы 14 облысты карта бойынша көрсетіңіз.



### 18-билет

1. Көшпелілер өркениетінің әлем мәдениетіне қосқан үлесі.
2. Бөкей хандығының құрылуы (экономикалық, саяси және әлеуметтік жағдайы)
3. Ұлы Отан соғысы жылдары Қазақстанға көшіріліп әкелінген кәсіпорындар орналасқан қалаларды карта бойынша көрсетіңіз.



### 19-билет

1. XVI-XVII ғғ. Қазақ халқының материалдық мәдениеті (киім-кешегі, ұлттық тағамдары)
2. Патшалық Ресейдің Оңтүстік Қазақстанды жаулап алу жолындағы әскери қимылдары және оның зардаптары.
3. 1930 жылдары Қазақстан аумағында орналасқан концентрациялық лагерьлерді карта бойынша көрсетіңіз.



## 20-билет

1. Қазақ халқының мәдениеті (музыкалық аспаптары)
2. Кіші жүз қазақтарының Е.И.Пугачев бастаған көтеріліске қатысуының тарихи маңызын анықтаңыз.
3. Қазақстанда ядролық сынақтар жүргізілген аумақтарды карта бойынша көрсетіңіз және оның зардаптарын талдаңыз.





## 21-билет

1. Қазақ хандығының жоңғар шапқыншылығына қарсы күресі
2. Тәуелсіз Қазақстанның мәдени өміріндегі негізгі өзгерістерді талдаңыз.
3. 1950-1960 жж. Шыңжаңмен сауда жасауда маңызды рөл атқарған Қазақстан қалаларын карта бойынша көрсетіңіз және оның маңызын анықтаңыз.



## 22-билет

1. Қазақ хандығының құрылуы. Керей мен Жәнібек
2. Қазақстан Республикасы әлемдік қауымдастықта алатын орны мен қызметін талдаңыз.
3. «Қалмақ қырылған», «Аңырақай» шайқастары болған өңірлерді карта бойынша көрсетіңіз және болған жылдарын анықтаңыз.



### 23-билет

1. Өмір Темірдің басқыншылық жорықтарының зардаптары.
2. КСРО-ның ыдырауына әсер еткен негізгі себептерді атаңыз және Қазақстан Республикасының тәуелсіздік жариялауының тарихи маңызын анықтаңыз.
3. Тәуелсіз Қазақстан Республикасымен шектесетін мемлекеттерді карта бойынша көрсетіңіз.



## 24-билет

1. Мезолит адамдарының өміріндегі өзгерістерді анықтаңыз.
2. Жартылай көшпелі және отырықшы мәдениеттердің өзара әсеріне талдау жасаңыз.
3. Қазақстанда тың игеру жүргізілген облыстарды карта бойынша көрсетіңіз.



## 25-билет

1. Үйсіндер жайлы жазба деректер
2. Қазақстан тарихының әлемдік тарихтың құрамдас бөлігі екенін нақты мысалдармен дәлелдеңіз.
3. Түрік қағанатының орналасқан аумағын карта бойынша көрсетіңіз.



## 26-билет

1. Сақтардың тәуелсіздік үшін күресі жайлы баяндаңыз.
2. Қазақстан Республикасы Конституциясы және оған соңғы жылдары енгізілген өзгертулер мен толықтыруларға талдау жасаңыз.
3. Батыс Түрік қағанатының орналасқан аумағын карта бойынша көрсетіңіз.



## 27-билет

1. Қазақ халқының этникалық тарихының қалыптасу эволюциясы мен дамуын сипаттап беріңіз.
2. «Жылымық» жылдарындағы қоғамдық-саяси және мәдени өмірге талдау жасаңыз.
3. Шығыс Түрік қағанатының орналасқан аумағын карта бойынша көрсетіңіз.





### 28-билет

1. Ерте ортағасырлардың тарихи және мәдени ескерткіштеріне сипаттама беріңіз.
2. Тың және тыңайған жерлерді игерудің кезеңдері, нәтижелері мен салдарын талдаңыз.
3. Қарақытай мемлекетінің орналасқан аумағын карта бойынша көрсетіңіз.



### 29-билет

1. Кейінгі ортағасырлардың тарихи және мәдени ескерткіштеріне сипаттама беріңіз.
2. 1960 ж. ортасындағы экономикалық реформалар және олардың нәтижесіз аяқталуының себептерін талдаңыз.
3. Шағатай ұлысының аумағын карта бойынша көрсетіңіз.



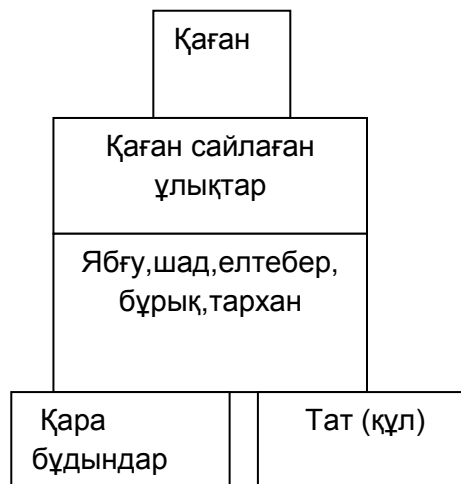

### 30-билет

1. Дамыған ортағасырлардың тарихи және мәдени ескерткіштеріне сипаттама беріңіз.
2. «Қайта құру» жылдарындағы Қазақстанның саяси жағдайына талдау жасаңыз.
3. Жошы ұлысының аумағын карта бойынша көрсетіңіз.



### III Нұсқа 1-билет

1. XV-XVI ғасырлардағы ақын- жыраулар.(Сыпыра,Қазтуған, Асанқайғы)
2. XX ғ. басында қазақ халқының ұлттық сана-сезімінің оянуындағы «Қазақ» газетінің орны мен рөлі.
3. Сақтар мен Батыс Түрік қағанатының қоғамдық құрылысын салыстыра отырып, сипаттаңыз.



## 2-билет

1. Барон Игельстромның реформасы және Кіші жүзде хан билігінің жою әрекеттері.
2. XX ғ. басында қазақ халқының ұлттық сана-сезімінің оянуындағы «Айқап» журналының орны мен рөлі.
3. Қыпшақ мемлекетінің астаналарын карта бойынша белгілеңіз.



### 3-билет

1. Бай қожалықтарды тәркілеу және оның саяси, экономикалық салдарын түсіндір?
2. Ә.Бөкейхановтың қоғамдық-саяси өміріне сипаттама беріңіз.
3. Қарахан мемлекетінің астаналарын карта бойынша белгілеңіз.



#### 4-билет

1. Қайта құру саясатының негізгі кезеңдері
2. 1937-1938 жж. жаппай репрессиялау шараларының ауқымы мен салдарын, ГУЛАГ жүйесінің құрылуы.
3. Үгедей ұлысының аумағын карта бойынша белгілеңіз.





### 5-билет

1. Тәуке ханнан кейінгі Қазақ хандығындағы қалыптасқан жағдай.
2. А.Байтұрсыновтың қоғамдық-саяси өміріне сипаттама беріңіз.
3. Қаңлылардың археологиялық ескерткіштері (Қауыншы, Отырар-Қаратау, Жетіасар) орналасқан аумақты карта бойынша белгілеңіз.



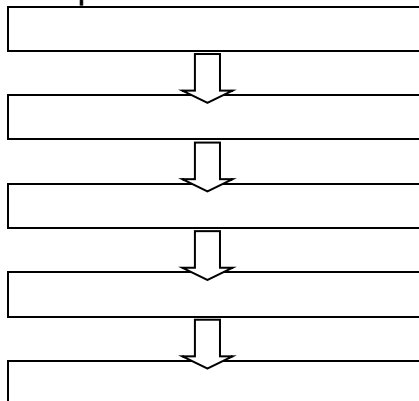
## 6-билет

1. Орбұлақ шайқасы.
2. Қазақстан ғылымының дамуындағы Қ.И.Сәтбаевтың орны мен рөлі.
3. Картадан ерте темір дәуіріндегі тайпаларды көрсетіңіз. Олардың археологиялық ескерткіштері туралы баяндаңыз.



### 7-билет

1. Тәуекел хан тұсындағы Қазақ хандығы.
2. Қазақ АКСР-інің одақтас республика болып қайта құрылуының тарихи маңызын анықтаңыз.
3. 1867-1868 жж. Уақытша ереже бойынша Қазақ жеріндегі басқару жүйесін көрсетілген кесте бойынша толтырыңыз.



### 8-билет

1. Хақназар хан тұсындағы Қазақ хандығы.
2. Ұлы Отан соғысының басталауына байланысты республика өмірін соғыс жағдайына бейімдеу шараларын талдаңыз.
3. XIX ғ. Қазақ жерінде ашылған жәрмеңкелердің (Талды-Қоянды, Қарқара, Ойыл) орналасқан жерін карта бойынша белгілеңіз.



### 9-билет

1. Орталық Қазақстан жеріндегі қола дәуірінің кезеңдері.
2. 1930 жылдардағы жаппай репрессия саясатының мақсаты мен нәтижесіне талдау жасаңыз.
3. XIX ғ. қазақ жерінде ашылған ірі өндіріс орындарының (Успен, Қарағанды, Екібастұз, Риддер) орналасқан жерін карта бойынша белгілеңіз.



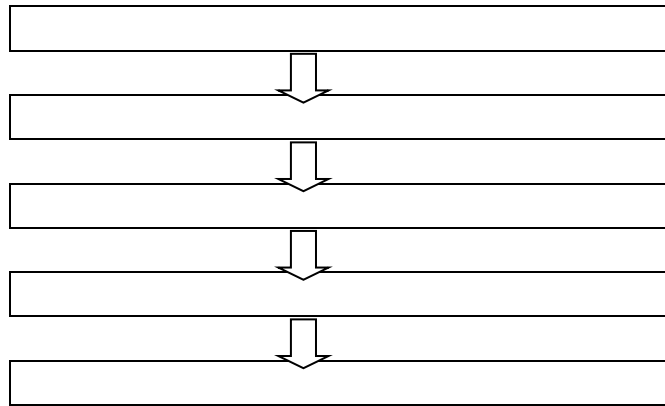
### 10-билет

1. Энеолит заманының өндірістегі және қоғамдық өмірдегі жетістіктері.
2. «Кіші Қазан» саясаты және оның қазақстанға кері әсері.
3. XVIII ғ. жоғарғы Ертіс бойында орналасқан бекіністердің (Семей, Өскемен, Жәміш, Кереку, Омбы) орналасқан жерін карта бойынша белгілеңіз.



### 11-билет

1. VI - IX ғғ. Қазақстанда өмір сүрген мемлекеттерді атап беріңіз.
2. Ұлы Отан соғысы жылдарындағы Мәскеу түбіндегі шайқастағы қазақстандықтардың көрсеткен ерліктері.
3. Қазақ жеріндегі ұлт-азаттық көтерілістердің болған уақытын дұрыс реттік жүйемен кестеге толтырыңыз. (Маңғыстау түбегіндегі көтеріліс, К.Қасымұлы бастаған ұлт-азаттық көтеріліс, Ж.Нұрмұхамедұлы бастаған азаттық күрес, С.Датұлы бастаған Кіші жүз қазақтарының көтерілісі, Бөкей Ордасындағы көтеріліс)



### 12-билет

1. Сақ, сармат дәуіріндегі әйелдердің қоғамдағы орнын сипаттаңыз.
2. Ұлы Отан соғысы жылдарындағы Кеңес Одағының батыры атағын алған қазақстандықтардың ерліктері. (С. Баймағамбетов, Б.Момышұлы, Т. Бигелдиев)
3. Кестені салыстыра отырып, толтырыңыз.

	Палеолит	Мезолит	Неолит
Кезеңдері			
Қоғамдық өміріндегі өзгерістер			
Кәсібі			
Еңбек құралдары			



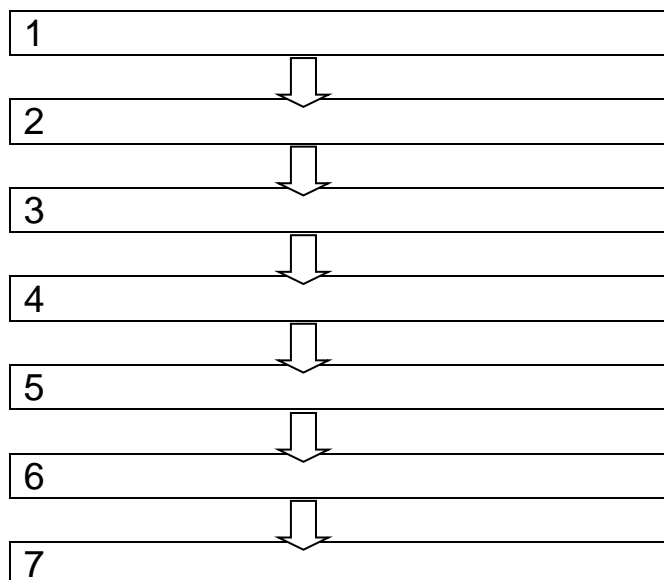
### 13-билет

1. Моңғол әскеріне қарсы Отырардың қорғанысы.
2. Ш. Уәлихановтың зерттеулеріне талдау жасаңыз.
3. «Қасым ханның қасқа жолы» бойынша енгізілген ережелерді кесте бойынша толтырыңыз және оның маңызын түсіндіріңіз.

↓
↓
↓
↓

### 14-билет

1. Киіз үй құрлымына талдау жасаңыз
2. Қазақ жерінде салынған әскери бекіністер.
3. Қазақ хандығының басқару жүйесін кесте бойынша толтырыңыз және оның маңызын түсіндіріңіз.



### 15-билет

1. Тәуелсіздіктің алғашқы жылдарындағы экономикадағы қиындықтар.
2. Жәңгір Бөкейұлының қазақ тарихындағы алатын орны мен рөлі.
3. VI –IX ғасырларда салынған архитектуралық ескерткіштер жайлы кестені толтырыңыз.

Архитектуралық ескерткіш	Қысқаша сипаты	Өзіндік ерекшеліктері
Ақыртас		
Мырзарабат		

### 16-билет

1. Палеолит, мезолит, неолит кезеңдерінің даму ерекшеліктері.
2. С.Датұлы мен К.Қасымұлы бастаған ұлт- азаттық көтерілістерге салыстырмалы талдау жасаңыз
3. XIII –XV ғғ. жер иелену түрлерінің мағынасын кестеге толтырыңыз.

Інжу	
Вақфтық жерлер	
Сойырғал, иқта	
Шаруалардың мүліктік жерлері	

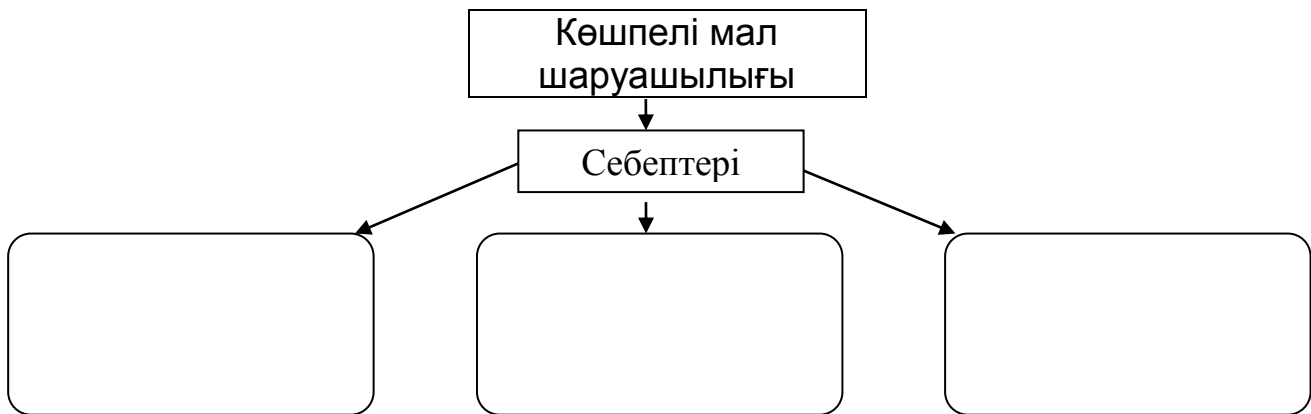
### 17-билет

1. Сақ тайпалары туралы жазба деректер (грек, рим, парсы)
2. Ресейдің I және II Мемлекеттік думасындағы қазақ депутаттары көтерген маңызды мәселелер.
3. XIII –XV ғғ. салық түрлерінің мағынасын кестеге толтырыңыз.

<b>Тағар</b>	
<b>Құшыр</b>	
<b>Қалан</b>	
<b>Зекет</b>	

## 18-билет

1. Неолит төңкерісі.
2. Мырзарабат, Якка сардоба ғимараттары мен Дың ескерткіштерін салыстырыңыз.
3. Көшпелі мал шаруашылығының шығуына әсер еткен негізгі себептерді кесте бойынша толтырыңыз.



### 19-билет

1. Қожа Ахмет Йасауи кесенесі.
2. XIX ғасырдың бірінші жартысында қазақ халқының өмірін зерттеген орыс ағартушылары және олардың еңбектері.
3. 1836-1838 жж. Бөкей Ордасындағы көтерілістің болған аудандарын карта бойынша белгілеңіз және маңызын түсіндіріңіз.



## 20-билет

1. Шірік- Рабат, Бәбіш- Молда қалалары.
2. Алтын Орда мемлекетінің басқару жүйесінің ерекшелігі.
3. Ж.Нұрмұхамедұлы бастаған азаттық күрестің болған аудандарын карта бойынша белгілеңіз және маңызын түсіндіріңіз.





## 21-билет

1. Тасмола мәдениеті (орналасқан жері, ерекшеліктері)
2. 1989 жылы Қазақстанда болған толқулар мен ереуілдердің талаптарын анықтаңыз.
3. Е.Көтібарұлы бастаған азаттық күрестің болған аудандарын карта бойынша белгілеңіз және маңызын түсіндіріңіз.



## 22-билет

1. Шілікті патша қорғандары, зерттелуі.
2. Ыбырай Алтынсариннің ағартушылық көзқарасының қалыптасуы.
3. Ж.Тіленшіұлы бастаған ұлт-азаттық күрестің болған аудандарын карта бойынша белгілеңіз және маңызын түсіндіріңіз.



## 23-билет

1. Савромат, дай тайпалары
2. 1920-1940 жж. ересектер арасында сауатсыздықты жою бойынша жүргізілген іс-шаралар.
3. Саржан Қасымұлы бастаған ұлт-азаттық күрестің болған аудандарын карта бойынша белгілеңіз және маңызын түсіндіріңіз.



## 24-билет

1. Сақ және савромат қоғамындағы әскери демократия.
2. Ағартушы, ақын, философ Абай Құнанбаевтың көзқарасының қалыптасуына талдау жасаңыз
4. 1860-1870 жылдарындағы қазақ халқының отаршылдық езгіге қарсы ұлт-азаттық күрестері болған аумақтарды карта бойынша белгілеңіз және маңызын түсіндіріңіз.



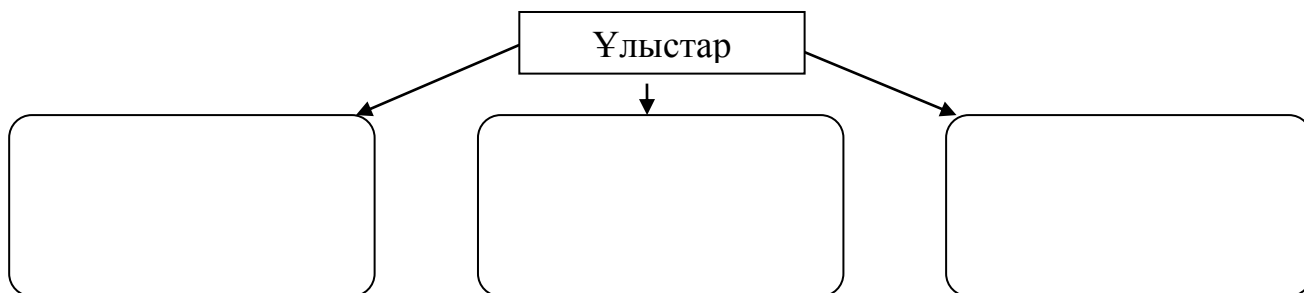
## 25-билет

1. Батыс Сібір хандығы (этникалық құрамы, саяси тарихы).
2. Қазақстан Республикасы «Тіл туралы» заңының тарихи маңызы.
3. 1905-1907 жж. буржуазиялық- демократиялық революция кезеңіндегі қазақ жеріндегі ірі бас көтерулер болған аумақтарды карта бойынша белгілеңіз және маңызын түсіндіріңіз.



## 26-билет

1. Ғұндардың мәдениеті мен шаруашылығы.
2. 1930-шы жылдарындағы Қазақстан ғылымының дамуы.
3. XIII ғ. Қазақстан аумағында құрылған ұлыстар мен олардың құрамына кірген өңірлерді кесте бойынша толтырыңыз.



### 27-билет

1. Үйсіндердің әдет- ғұрыптары және діни наным– сенімдері.
2. Бөкей Ордасындағы ұлт-азаттық көтеріліс пен К.Қасымұлы бастаған ұлт-азаттық көтерілістерді салыстырыңыз.
3. Тәуке ханның «Жеті жарғысында» қарастырылған мәселелерді кесте бойынша толтырыңыз және оның маңызын түсіндіріңіз

1
↓
2
↓
3
↓
4
↓
5
↓
6
↓
7

### 28-билет

1. Қаңлылар туралы ежелгі жазба деректер.
2. 1867-1868 жж. реформаларға қарсы қазақ даласындағы көтерілістер.( Орал,Торғай, Маңғыстау)
3. 1916 жылғы көтеріліс барысында құрылған ұлттық билік құрылымын кесте бойынша толтырыңыз.

<b>Лауазымды тұлға</b>	<b>Міндеті</b>
Елбегі	
Жасақшы	
Қазынашы	
Сардарбек	
Сарбаздар	



### 29-билет

1. Сақтардың діни наным–сенімдері.
2. 1930- шы жылдарындағы кино өнеріндегі жетістіктер.
3. Төмендегі терминдерінің мағынасын кесте бойынша толтырыңыз.

<b>Диуан</b>	
<b>Инал</b>	
<b>Сюбашы</b>	
<b>Күл-еркін</b>	
<b>Елтебер</b>	

### 30-билет

1. Ислам дінінің Қазақстан аумағына таралуы.
2. Патшалық Ресейдің Оңтүстік Қазақстанды жаулап алу жолындағы әскери қимылдары және оның аяқталуы.
3. Қазақстандағы Ақпан революциясының нәтижесін кесте бойынша толтырыңыз.

Қазақстандағы Ақпан революциясы	
Қандай мәселені шешті	Қандай мәселелерді шеше алмады

## IV –Нұсқа

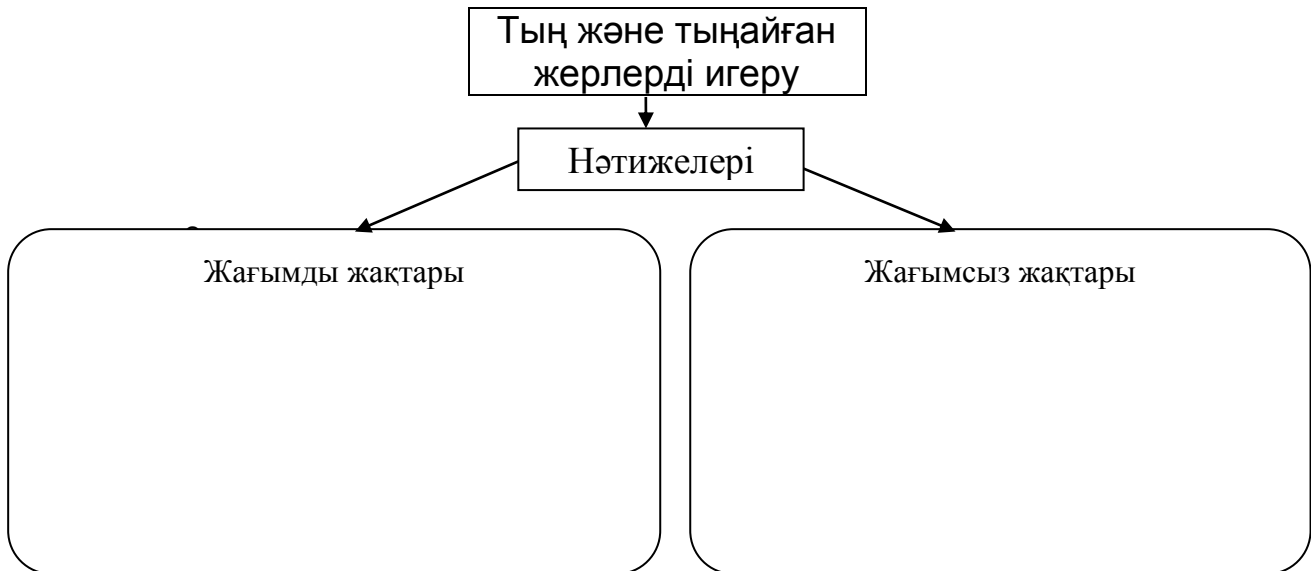
### 1-билет

1. Қазақстан жеріндегі ежелгі тас дәуірі (хронологиясы, тұрақтары, еңбек құралдары).
2. Ислам дінінің мәдениеттің дамуына тигізген әсері.
3. Терминдердің мағынасын кесте бойынша толтырыңыз.

<b>Милитаризм</b>	
<b>Метрополия</b>	
<b>Мобилизация</b>	
<b>Реквизиция</b>	
<b>Монархия</b>	

## 2-билет

1. Қазақстан жеріндегі мезолит дәуірі. (хронологиясы, тұрақтары, еңбек құралдары)
2. Ақпан революциясынан кейін құрылған саяси партиялар мен ұйымдарға талдау жасаңыз.
3. Тың және тыңайған жерлерді игерудің жағымды және жағымсыз жақтарын кесте бойынша толтырыңыз.



### 3-билет

1. Мезолит адамдарының кәсібі.
2. Әбілғазы Бахадур шығармасының тарихи маңызын анықтаңыз
3. Қазақстандағы Уақытша үкімет органдарының атқарған қызметін кесте бойынша толтырыңыз.



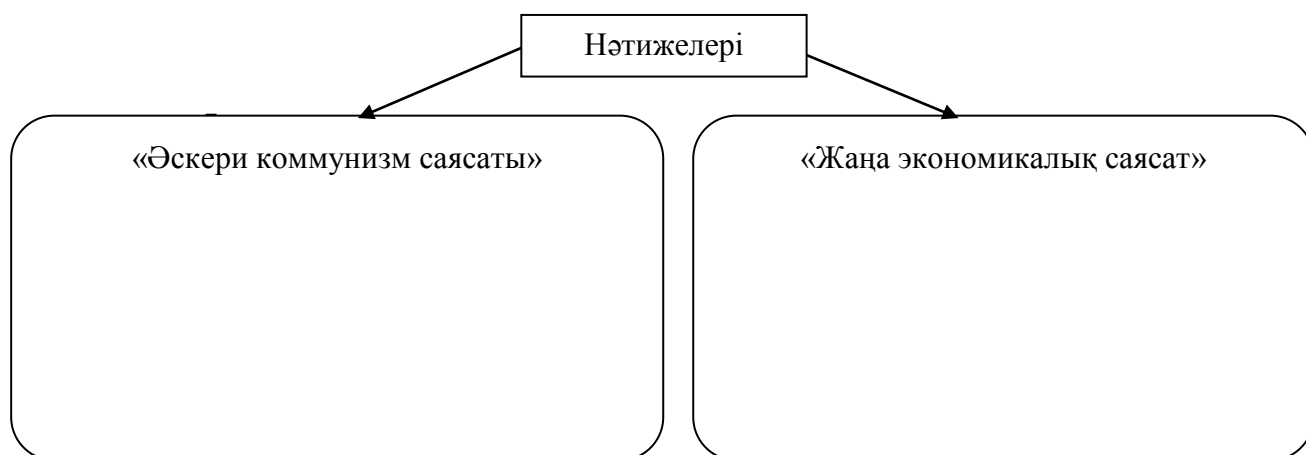
#### 4-билет

1. Қазақ хандығының мемлекеттік әкімшілік - құрылымы.
2. Қазақстанда кеңес үкіметінің орнау ерекшеліктері.
3. 1917 жылы құрылған партиялардың саяси қызметтерін салыстырыңыз

	«Алаш» партиясы	«Үш жүз» партиясы
Басшылары		
Саяси қызметі		
Қазан революциясына көзқарасы		

### 5-билет

1. Есім хан тұсындағы қазақ хандығы.
2. Тоқырау жылдарындағы Қазақстан ауыл шаруашылығының даму ерекшеліктері мен оны басқарудағы кемшіліктер.
3. Қазақстандағы «Әскери коммунизм саясаты» мен «Жаңа экономикалық саясаттың» нәтижелерін салыстырыңыз.



### 6-билет

1. Ноғай Ордасы (аумағы, қоғамдық құрылысы, этникалық құрамы, ыдырауы)
2. XX ғасырдың 60- 80 жылдарындағы әлеуметтік демографиялық жағдай.
3. Қазақстандағы индустрияландырудың жетістіктері мен келеңсіз жақтарын кесте бойынша толтырыңыз.

Қазақстандағы индустрияландыру	
Жетістіктері	Келеңсіз жақтары



### 7-билет

1. Қола дәуірінің ерекшеліктері
2. Қазақ өлкесіндегі диаспоралардың қалыптасуы.
3. Индустрияландыру жүргізілген кезеңдегі орын алған қиындықтар мен нәтижелерін кесте бойынша толтырыңыз.

Қазақстандағы индустрияландыру	
Қиындықтары	Нәтижелері

### **8-билет**

1. Моғолстан (саяси тарихы, этникалық құрамы).
2. XIX ғасырда Қазақстандағы жәрмеңкелердің әлеуметтік – мәдени салада атқарған қызметтеріне талдау жасаңыз.
3. Тұрар Рысқұловтың қоғамдық-саяси қызметін сипаттаңыз.


### 9-билет

1. Әмір Темірдің Алтын Ордаға жасаған жорықтары.
2. 1916 ж. көтеріліс жылдарындағы қазақ зиялыларының қоғамдық-саяси қызметі.
3. Кенесары Қасымұлы бастаған көтерілісшілер басып алған бекіністерді картадан көрсетіңіз.



### 10-билет

1. Шығай хан тұсындағы қазақ хандығы.
2. XX ғ. басындағы Қазақстандағы өнеркәсіптің даму ерекшеліктері.
3. Смағұл Сәдуақасовтың қоғамдық-саяси қызметі.



### 11-билет

1. Билердің қазақ қоғамындағы рөлі мен қызметі.
2. 1916 жылғы Жетісудағы көтерілістің ерекшеліктері және салдары.
3. 1917 жылдары құрылған саяси - демократиялық партиялардың құрылған аумақтарын карта бойынша белгілеңіз.



## 12-билет

1. Әмір Темірдің Моғолстанға жасаған жорықтары.
2. 1916 жылғы Торғай облысындағы көтерілістің барысы, ерекшеліктері мен маңызы.
3. Суретке қарап отырып, оқиғаны сипаттаңыз.



### 13-билет

1. XX ғасырдың басындағы Қазақстанның экономикалық жағдайы.
2. Әбілхайыр ханның Ресей патшалағымен жүрізген келіссөздерінің мәні мен сипаты.
3. Суретке қарап отырып, оқиғаны сипаттаңыз.



### 14-билет

1. Абылай хан (мемлекет қайраткері, саясатшы, дипломат)
2. XX ғ. басындағы ұлт – азаттық қозғалысындағы қазақ зиялыларының қоғамдағы рөлі.
3. Суретке қарап отырып, оқиғаны сипаттаңыз.





### 15-билет

1. Мөде тұсындағы Ғұн мемлекеті.
2. Патша үкіметінің 1916 жылғы ұлт азаттық көтеріліс кезіндегі жазалау шараларына талдау жасаңыз.
3. Суреттегі оқиғаны сипаттаңыз.



### 16-билет

1. Аттила және ғұндар.
2. 1917 жылғы Ақпан революциясынан кейінгі Қазақстандағы саяси биліктің сипаты мен ерекшеліктері.
3. Суретке қарап отырып, оқиғаны сипаттаңыз.



### 17-билет

1. Қазақстандағы этно - саяси бірлестіктердің қалыптасуы.
2. Қабанбай, Бөгенбай, Наурызбай батырлардың тарихи портретін жасаңыз.
3. 1920-1930 жылдардағы Қазақстан мәдениетіне арналған кестені толтырыңыз.

<b>Жоғары оқу орындары</b>	<b>Ғылыми мекемелер</b>	<b>Өнер ошақтары</b>

### 18-билет

1. Алғашқы адамдардың еңбек құралдары мен тіршілігі.
2. XX ғасырдың 30-шы жылдарындағы Қазақстан ғылымының дамуына талдау жасаңыз.
3. Қазақстанда ауыл шаруашылығын жаппай ұжымдастыруға арналған кестені толтырыңыз.

<b>Күштеп ұжымдастырудың мәні</b>	<b>Күштеп ұжымдастырудың салдары</b>


### 19-билет

1. «Жеті Жарғы» және оның қазақ қоғамындағы рөлі.
2. 1917 жылғы шілдедегі I жалпы қазақ съезінің шақырылуының тарихи маңызына талдау жасаңыз.
3. М. Шоқайдың қоғамдық-саяси қызметі.



### 20-билет

1. Қазақстандық Алтайдың ерте темір дәуірі: Берел қорғаны
2. Бірінші орыс революциясы жылдарындағы Қазақстандағы қоғамдық – саяси қозғалыстың дамуына талдау жасаңыз.
3. М.Дулатовтың қоғамдық-саяси қызметіне баға беріңіз.



### 21-билет

1. Қазақ халқының қалыптасу процесінің аяқталуы.
2. ХІХ ғасырдың екінші жартысындағы қазақ даласындағы мұсылман мектептері мен медреселердің жағдайы.
3. 1917-1918 жылдардағы Қазақстандағы ұлттық автономиялар кестесін толтырыңыз.

Құрылған уақыты	Басшылары	Саяси бағыттары

## 22-билет

1. Наймандар, Керейлер, Жалайырлар.
2. XX ғасырдың басындағы музыка өнері.
3. Кеңес өкіметінің алғашқы декреттері жайлы кестесі толтырыңыз.

<b>Декреттің аты</b>	<b>Қысқаша мазмұны</b>



### 23-билет

1. Қадырғали Қосымұлы Жалайыридің «Жылнамалар жинағы».
2. ХІХ ғасырдың бірнші жартысында қазақ даласын зерттеген ғалымдар.
3. Қазақстанда Кеңес өкіметінің орнауы жайлы кестені толтырыңыз.

<b>Кеңес өкіметі орнауының ерекшеліктері</b>	<b>Аймақ</b>	<b>Себептері</b>
<b>Бейбіт түрде</b>		
<b>Қарулы күреспен</b>		

## 24-билет

1. Ежелгі темір дәуіріндегі Оңтүстік Қазақстан және Жетісу мәдениеті.
2. Қазақ АКСР-інің Қазақ КСР-нен айырмашылығына талдау жасаңыз.
3. Сурет бойынша оқиғаны сипаттаңыз.



### 25-билет

1. Жетісудағы үйсін мәдениетінің ерекшеліктері.
2. Патшалық Ресейдің Қазақстанның оңтүстік аумағын жаулап алуының тарихи маңызы.
3. Сурет бойынша оқиғаны сипаттаңыз.




## 26-билет

1. Ортағасырлық Қазақстан тарихындағы қыпшақтардың саяси тарихы.
2. Жоламан Тіленшіұлы мен Саржан Қасымұлы бастаған көтерілістерді салыстыра отырып, талдау жасаңыз.
3. Сурет бойынша оқиғаны сипаттаңыз.



## 27-билет

1. Қазақстан аумағында Батыс Түрік қағанатының құрылуы.
2. Қасым хан мен Есім хан тұсындағы қазақ хандығының ішкі және сыртқы жағдайы.
3. Сурет бойынша оқиғаны сипаттаңыз.




### 28-билет

1. Төле бидің қазақ қоғамындағы рөлі.
2. Жанқожа Нұрмұхаммедұлы басқарған көтерілістің тарихи маңызы.
3. Азамат соғысы жылдарындағы Қазақстан жайлы кестені толтырыңыз.

<b>Қазақстандағы Азамат соғысының ерекшеліктері</b>	<b>Азамат соғысының салдары</b>	<b>Қазақстан аумағындағы майдандар</b>

### 29-билет

1. Қ.А. Ясауидің «Диуани хикмет» еңбегі.
2. Ұлы Отан соғысы кезіндегі Қазақстан экономикасының даму ерекшеліктері.
3. Ш.Құдайбердіұлының тарихта алатын орны.



### 30-билет

1. Мухаммед Хайдар Дулатидің «Тарихи –Рашиди» еңбегі.
2. XX ғасырдың басындағы Қазақстандағы баспа ісінің дамуы.
3. Батыс Түрік қағанаты қағандарының жүргізген саясатын кесте бойынша толтырыңыз.

Қағандар	Жүргізген саясаты
Тардуш қаған	
Шегу қаған	
Тон қаған	



## V-НҰСҚА

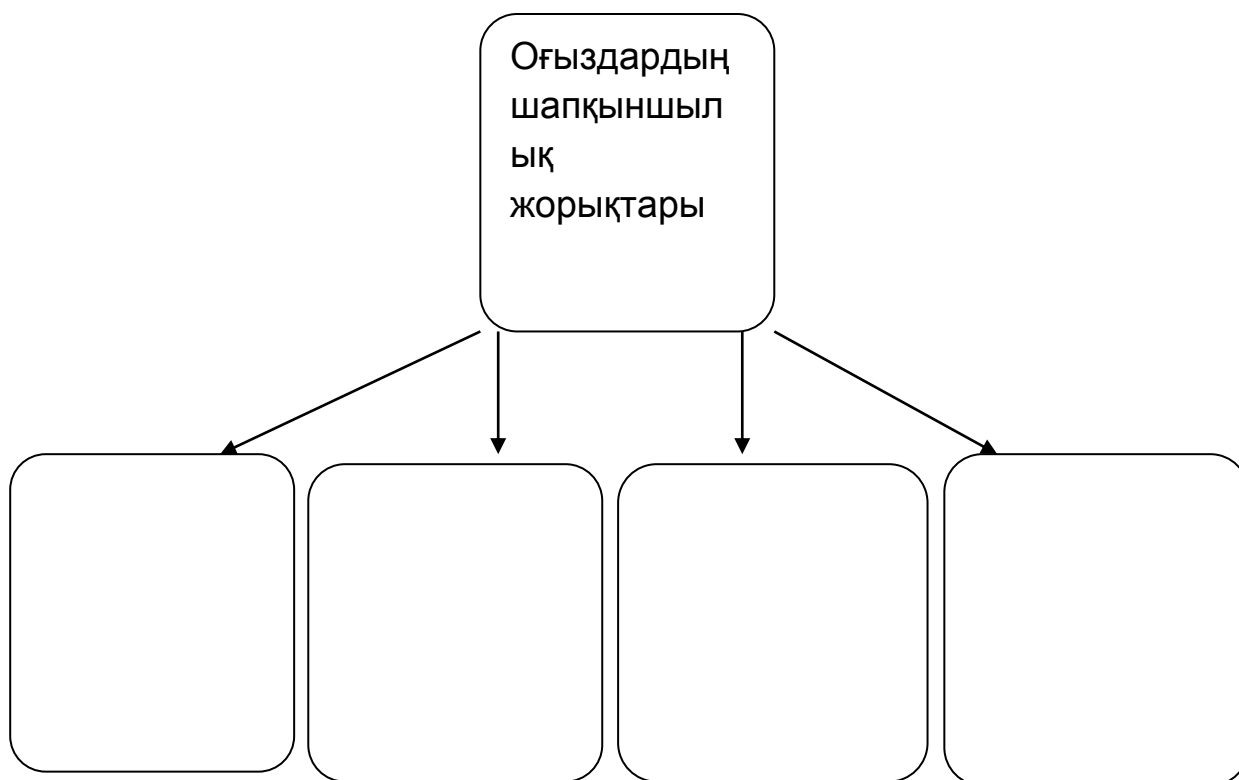
### 1-билет

1. Ж.Баласағұни - ғұлама ақын.
2. XIV ғасырдағы Қазақстанның экономикалық жағдайы.
3. Ұлы Отан соғысы жылдарындағы қазақ кеңес әдебиеті мен өнерінің дамуына үлес қосқан тұлғаларды кесте бойынша толтырыңыз.

<b>Көрнекті ақын- жыраулар</b>	<b>Қазақтың кәсіби композиторлары</b>	<b>Танымал актерлер</b>

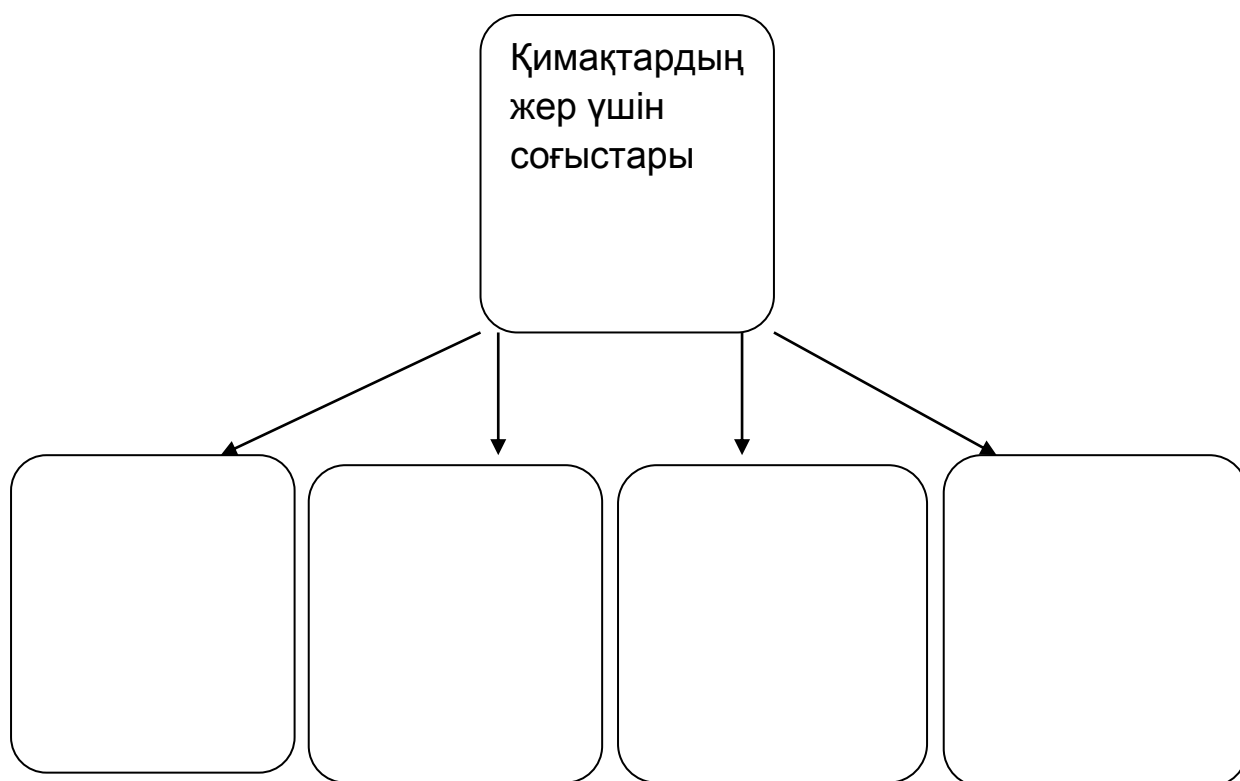
## 2-билет

1. XV ғасырдағы Қазақстанның экономикалық жағдайы.
2. Нұралы мен Абылай ханның басқару саясатын салыстыр.
3. Оғыздардың саяси жағдайы туралы кестені толтырыңыз.



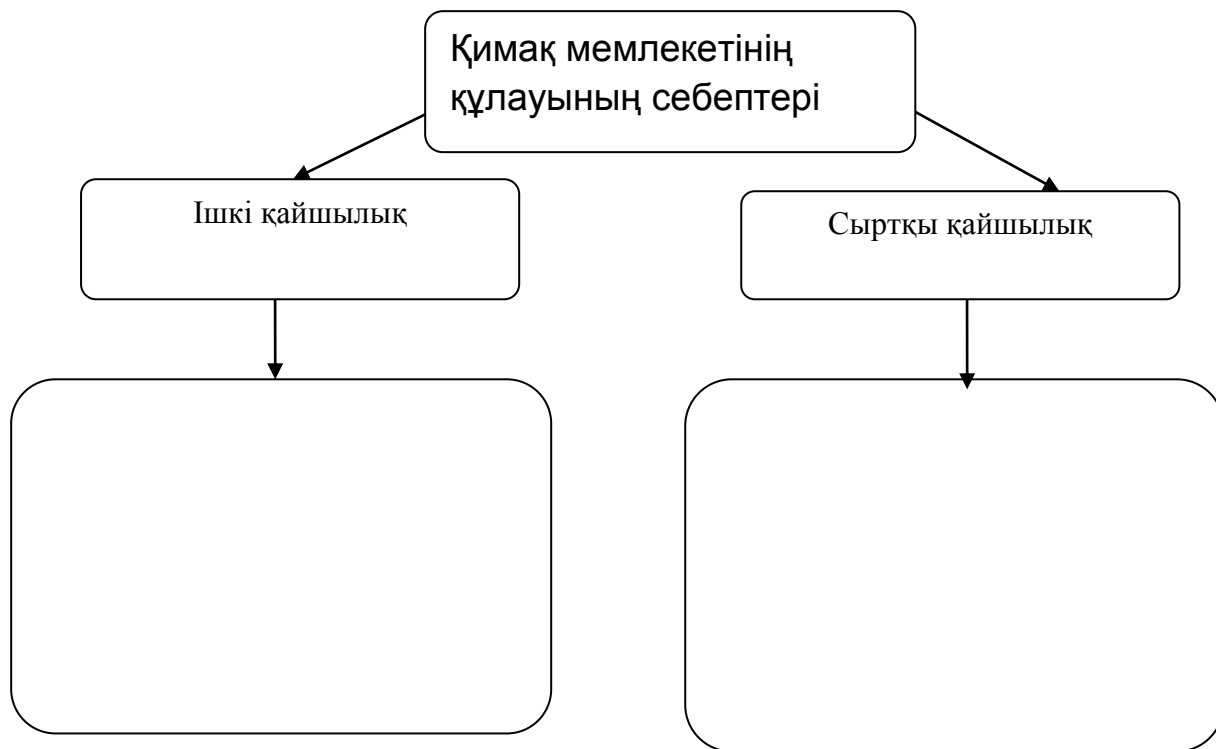
### 3-билет

1. Көшпелілердің «аң стилиндегі» өнері.
2. Қ.А.Йасауидің түркі әлемінде алатын орны мен рөлі.
3. Қимақтардың саяси жағдайы туралы кестені толтырыңыз.



#### 4-билет

1. Өтеміс қажының «Шыңғыснама» еңбегі.
2. Алтын Орданың мемлекеттік құрылымы мен ерекшеліктерін сипатта.
3. Қимақ мемлекетінің құлауының себептерін анықтап, кестені толтырыңыз.



### 5-билет

1. Әл-Фарабидің білім салаларын дамытуға қосқан үлесі.
2. «Отарлау» ұғымына және Қазақстанды Ресейлік отарлаудың ерекшеліктері қандай болғандығына талдау жасаңыз.
3. Қарахан мемлекеті қағандарының жүргізген саясатын кесте бойынша толтырыңыз.

Қағандар	Жүргізген саясаты
Сатұқ Боғрахан	
Мұсахан	
Ибраһим ибн Насыр	

### 6-билет

1. Әбу Райхан әл-Бируни- энциклопидист, ғалым.
2. 1960- 1980 жылдарындағы Қазақстанның экономикалық жағдайы.
3. Найман мемлекеті билеушілерінің жүргізген саясатын кесте бойынша толтырыңыз.

<b>Билеушілер</b>	<b>Жүргізген саясаты</b>
<b>Наркеш Дайын</b>	
<b>Инанч –білге</b>	
<b>Бұйрық</b>	

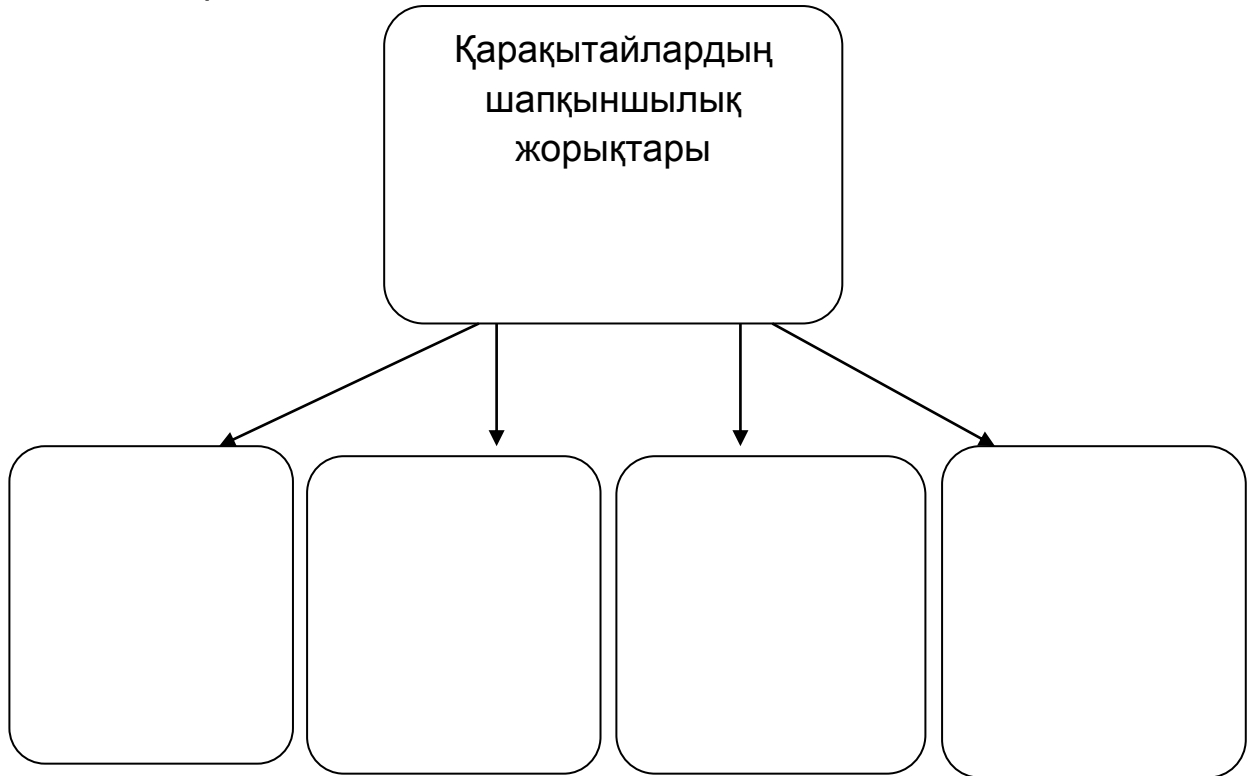
## 7-билет

1. Сақтардың мәдениеті.
2. Қазақстан - 2050 стратегиясының басым бағыттарын анықтап, сипаттама беріңіз.
3. Қола дәуірі кезеңіндегі жартастардағы суреттер табылған аумақтарды карта бойынша белгілеңіз.



### 8-билет

1. Ж.Баласағұни - ғұлама ақын.
2. Тәуелсіз Қазақстанның сыртқы саясатындағы Батыс елдерімен қарым-қатынасына талдау жасаңыз.
3. Қарақытай мемлекетінің саяси жағдайы туралы кестені толтырыңыз.





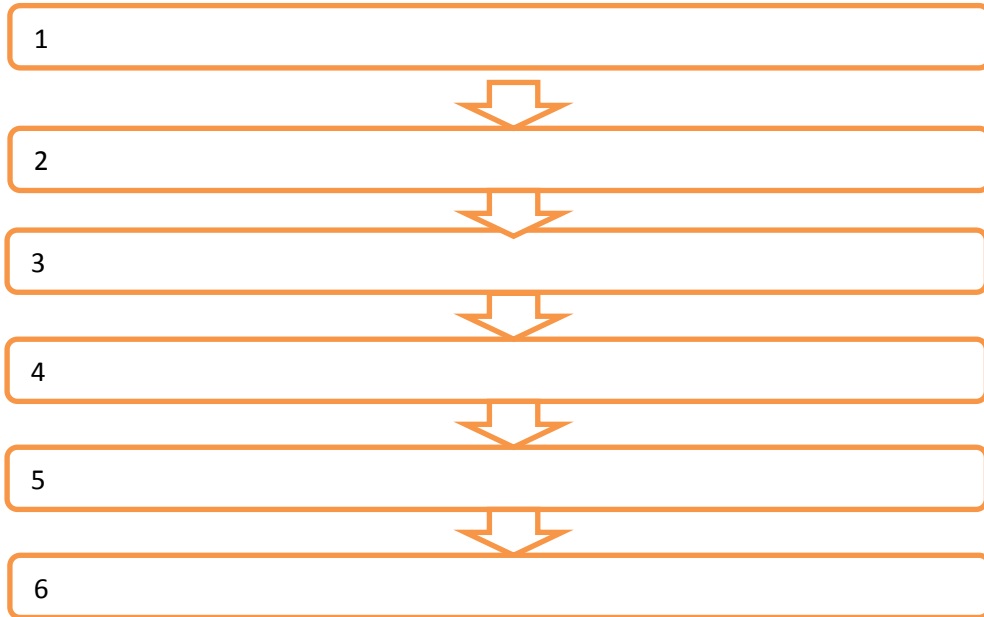
## 9-билет

1. Оңтүстік Қазақстан - Ұлы Жібек жолының Батысқа шығатын басты қақпасы.
2. 1990 жылдары Қазақстандағы жекешелендіру үрдісі және оның әлеуметтік салдары.
3. X-XII ғасырлардағы архитектуралық құрылыс жүйелерін кесте бойынша толтырыңыз.

<b>Архитектуралық құрылыстар</b>	<b>Архитектуралық құрылыстардың аты</b>	<b>Орналасқан жері</b>	<b>Ерекшеліктері</b>
Мешіт			
Кесене			
Монша			

## 10-билет

1. X-XIII ғасырлардың басындағы Қазақстанның ортағасырлық қалалары (Отырар, Тараз, Түркістан, Сайрам, Сығанақ)
2. Қазақстанның әлемдік бірлестіктеріне кіру мақсаты және оның маңызына сипаттама жасаңыз.(БҰҰ, Әлемдік Банк, ХВФ, ЮНЕСКО)
3. Монғол империясының қоғамдық құрылыс жүйесін кесте бойынша толтырыңыз және оның маңызын түсіндіріңіз.



### 11-билет

1. Қыпшақтардың этникалық құрамына түсінік беріңіз.
2. X-XII ғасырларда Оңтүстік Қазақстан мен Жетісу өлкесінде қалалар санының өсу себептеріне талдау жасап, түсінік беріңіздер.
3. Монғол шапқыншылығына қатысты оқиғаларды кесте бойынша толтырыңыз.

<b>Жылдар</b>	<b>Болған оқиғалар</b>
<b>1207-1208 жж.</b>	
<b>1207-1209 жж.</b>	
<b>1218 ж.</b>	
<b>1219-1220 жж.</b>	

### 12-билет

1. Ботай мәдениеті және Беғазы-Дәндібай мәдениетінің ерекшеліктері.
2. Шанхай ынтымақтастық ұйымына Қазақстанның кіруінің тарихи маңызына талдау жасаңыз.
3. Алтын Орда билеушілерінің жүргізген саясатын кесте бойынша толтырыңыз.

<b>Билеушілер</b>	<b>Басқарған жылдары</b>	<b>Жүргізген саясаты</b>
<b>Бату</b>		
<b>Берке</b>		
<b>Меңгу Темір</b>		

### 13-билет

1. «Түгіскен» кесенесі (ескерткіші) мен «Беғазы-Дәндібай» ескерткіштері.
2. Қазақ КСР-ның мемлекеттік егемендігі жөніндегі декларация мазмұнын және маңызын ашып көрсетіңіз.
3. Алтын Орда билеушілерінің жүргізген саясатын кесте бойынша толтырыңыз.

<b>Билеушілер</b>	<b>Басқарған жылдары</b>	<b>Жүргізген саясаты</b>
<b>Тоқтыхан</b>		
<b>Өзбек</b>		
<b>Жәнібек</b>		

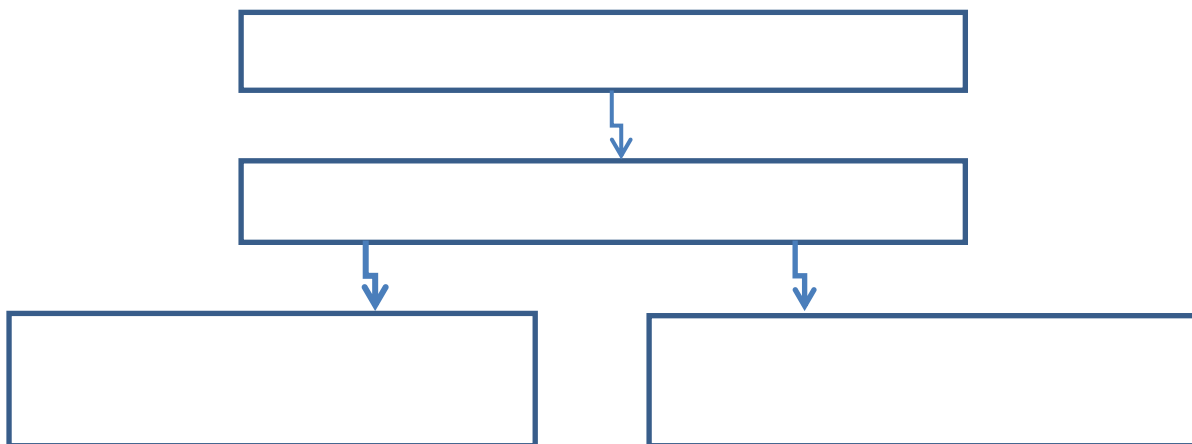
### 14-билет

1. Қазақстандағы ежелгі, көне жазулар.
2. ТМД құрылуы және оны құрудағы Н.Ә.Назарбаевтың қызметіне талдау жасаңыз.
3. Ақ Орда билеушілерінің жүргізген саясатын кесте бойынша толтырыңыз.

<b>Билеушілер</b>	<b>Жүргізген саясаты</b>
<b>Ерзен хан</b>	
<b>Мүбәрак</b>	
<b>Ұрыс</b>	
<b>Барақ</b>	

### 15-билет

1. Ортағасырлық Қазақстандағы бейнелеу және мүсін өнері.
2. Қазақстанда нарықтық экономикаға көшу барысындағы жетістіктер мен қиыншылықтарын сипаттаңыз
3. «Үйсіндердің қоғамдық құрылымы»- кестені толтырыңыз.



### 16-билет

1. Қарахан мемлекетінің мәдениеті.
2. Уақытша үкіметтің қазақ халқына қатысты саясатының жағымды және жағымсыз жақтарын талдау жасаңыз.
3. Алғашқы наным-сенімдер кестені толтырыңыз.

<i><b>Діни нанымдар</b></i>	<i><b>Мағынасы</b></i>
Тотемизм	
Анимизм	
Магия	



### 17-билет

1. Қазбек бидің тарихта алатын орны мен қызметі.
2. 1917 жылғы Қазақстанда болған саяси оқиғаларға талдау жасаңыз.
3. Тас дәуірінің кезеңдері мен пайдаланған еңбек құралдарын кестеге толтырыңыз.

<b>Кезеңдер</b>	<b>Еңбек құралдары</b>
Палеолит	
Мезолит	
Неолит	
Энеолит	

### 18-билет

1. Өйтеке бидің тарихта алатын орны мен қызметі.
2. 1917 жылғы ақпан революциясынан кейінгі Қазақстандағы саяси жағдайға.
3. Төмендегі мәтіндердің авторларын табыңыз және бұл айтылған сөздердің мағынасын түсіндіріңіз.

1. *«Жұрт сеңдей соғылды, түнде ұйқыдан, күндіз, күлкіден айрылды»*
2. *«Қазақ секілді іргелі жұрт өзгелер қатарында соғыс майданында қару-жарақ асынып, мемлекетті, қорғауға лайық еді, қатарда жоқ қара жұмысқа байлануын кемшілік санаймыз»*
3. *«Бұл соғыстан жалпы жұртқа пайдасы жоқ. Нарлар алысар, ал шаруасын бұзып, қанын төгетін сорлы халық болар.»*

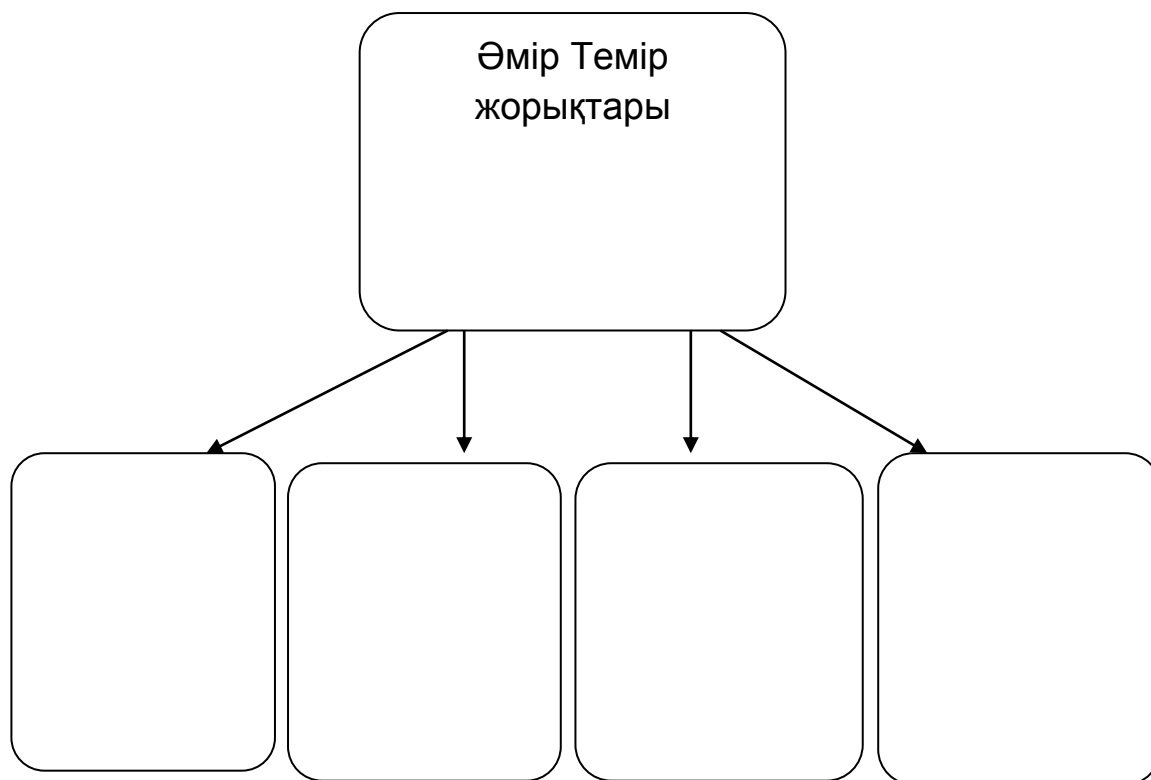
### 19-билет

1. XV –XVII ғғ. қазақ халқының аспан жұлдыздарына қарап болжауы.
2. Моңғолиядағы Керулен өзенімен аталған тайпаны анықтап, сипаттаңыз.
3. Моғолстан билеушілерінің жүргізген саясатын кесте бойынша толтырыңыз.

Билеушілер	Жүргізген саясаты
Тоғылық Темір	
Ілияс -Қожа	
Есен-бұға	

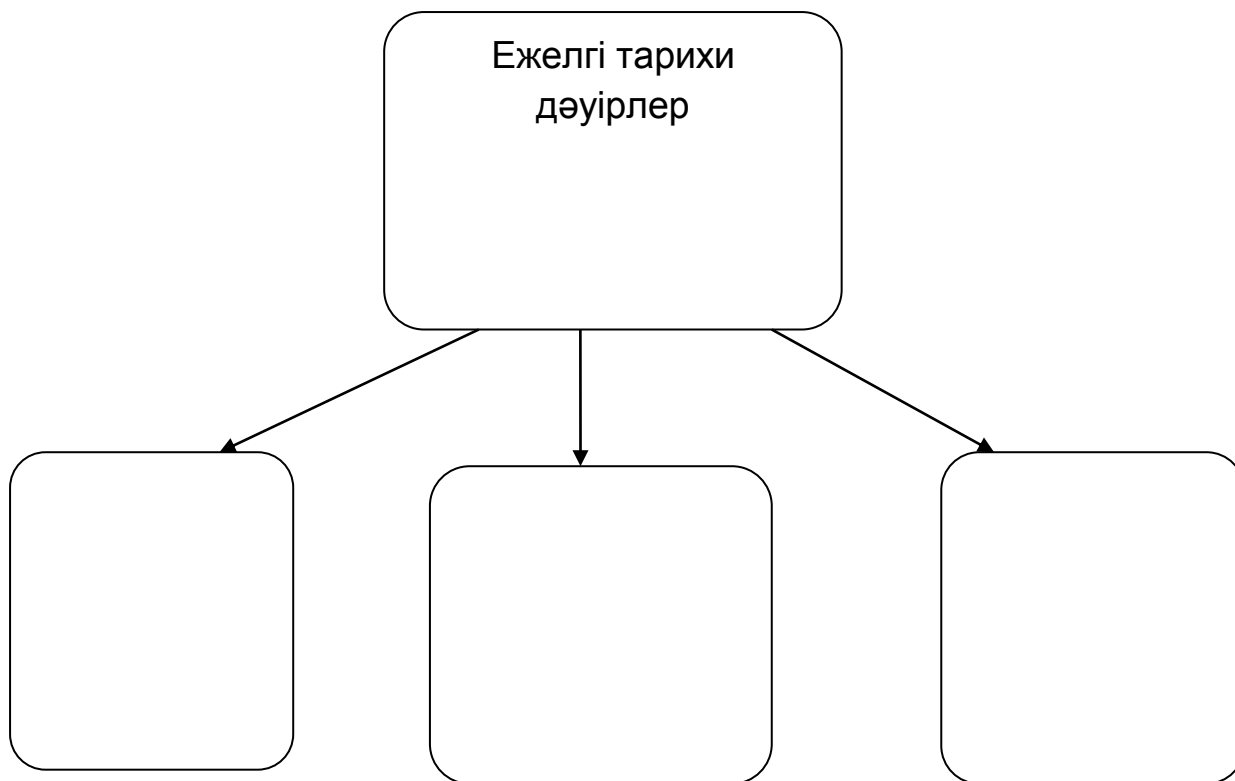
### 20-билет

1. XV – XVII ғғ. қазақ халқының ауыз әдебиеті.
2. Қазақстан экономикасының соғыс жағдайына (1941-1945 жж.) бейімделуі.
3. Әмір Темір жорықтары туралы кестені толтырыңыз.



## 21-билет

1. Сұлу қағанның тарихта алатын орны мен рөлі.
2. КСРО-ның ыдырауы. ҚР-ның мемлекеттік тәуелсіздігінің жариялануының тарихи маңызы.
3. «Ежелгі тарихи дәуірлер» туралы кестені толтырыңыз.



## 22-билет

1. Көне түркілердің жазба мәдениеті.
2. 1990 жылдары құрылған «Азат» азаматтық қозғалысының мақсат-міндеттері.
3. Қазақстандағы 1867-1868 жж.реформа бойынша кестені толтырыңыз.

<b>Генерал-губернаторлықтар</b>	<b>Облыстар</b>	<b>Уездер</b>

### 23-билет

1. Өбілғазы шежірелерінің тарихи маңызы
2. Е.Бекмахановтың тарих ғылымын дамытудағы үлесіне баға беріңіз.
3. Терминдердің мағынасын кесте бойынша толтырыңыз.

Археология	Этнография	Топонимика	Антропология
↓	↓	↓	↓

### 24-билет

1. Есім ханның Қазақ хандығын нығайтудағы қызметі
2. Невада–Семей антиядролық, экологиялық қозғалысы «5-5» формуласы.
3. Андроновтықтардың шаруашылығы бойынша кестені толтырыңыз.

<b>Мал шаруашылығы</b>	
<b>Жер өңдеу</b>	
<b>Кен өндіру</b>	



## 25-билет

1. Қазақ халқының XVI – XVII ғғ. шаруашылығы.
2. Алаш қозғалысы қайраткерлерінің ресми ақталуы және оның тарихи маңызы.
3. Ежелгі адамдардың тұрақтары бойынша кестені толтырыңыз.

<b>Тұрақтар</b>	<b>Орналасқан жері</b>	<b>Ерекшеліктері</b>
Шақпақ ата		
Арыстанды		
Шабқты Бөріқазған		

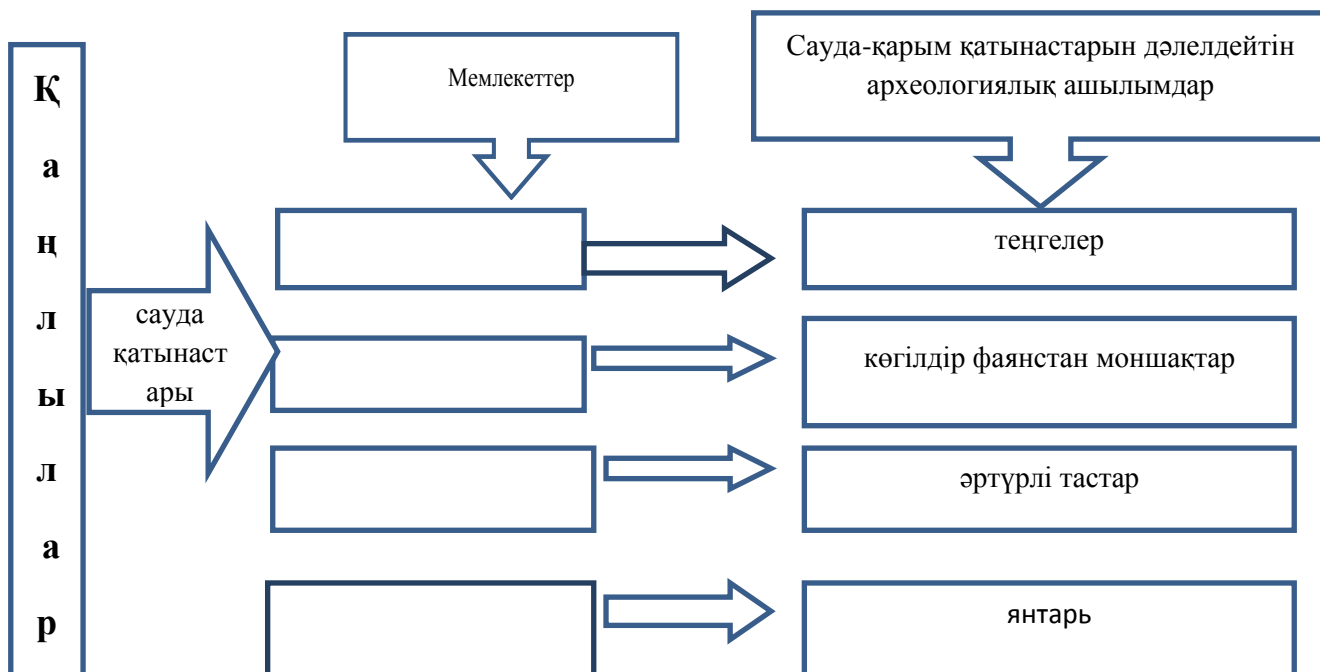
## 26-билет

1. Маусымдық көші – қон.
2. Қазақстанда Азиялық ойындар өтуінің маңызын анықтаңыз.
3. «Ежелгі адамдардың тұрақтары» бойынша кестені толтырыңыз.

<b>Тұрақтар</b>	<b>Орналасқан жері</b>	<b>Ерекшеліктері</b>
Қанай		
Семізбұғы		
Батпақ тұрағы		

## 27-билет

1. XVI – XVII ғғ. қазақ халқының қолөнері.
2. Тәуелсіз Қазақстанның олимпиадалық спорттағы жетістіктері.
3. Кестені толтырып, Қаңлылардың басқа елдермен қарым-қатынасына түсінік беріңіз.



## 28-билет

1. XV – XVI ғғ. қазақ халқының музыка өнері.

2. Қазақстанда Ислам ынтымақтастығы ұйымы конференциясының өтуі және оның тарихи маңызы.

3. Төменде берілген тарихи құжаттарды басшылыққа алып, кестені толтырыңыз.

№	Тарихи құжаттар	Кезең	Оқиға	Тарихи маңызы
1	Азияны бағындырып және барлық Шығысты өзіне қаратқан Кир скифтерге соғысқа аттанды. <i>Помпей Трог</i>			
2	Сібір бұратаналары жөнінде жаңа заң дайындалуы мен қатар Сперанский Сібір қырғыздарын басқару туралы заңға айрықша мән берді. Белгісіз Сібір жерлерін картаға түсіру үшін ерекше ұсыныс жасады <i>Фатеев А.</i>			

## 29-билет

1. XVI – XVII ғғ. қазақ хандығының мемлекеттік–әкімшілік құрылымы.
2. Қазақстанда 1920- 1940жж. жоғарғы оқу орындарының ашылуы мен білім беру жүйесінің қалыптасуы және дамуы.
3. Тарихи оқиғалар және олардың маңызы бойынша берілген кестені толтырыңыз.

№	Кезең	Оқиға	Орны	Тарихи маңызы
1		Керей мен Жәнібек сұлтандардың көшуі		
2	1925ж		Қызылорда	
3		Бұланты шайқасы		
4				Бұл оқиға ұлт азаттық тарихында ерекше орын алды. Ұлттық рұхтың жаңғыру , қайта түлеу кезіңіні басы болды. Бұл қозғалыс Одақ көлемінде жалғасын тапты,.КСРО-ны құрушы республикалардың бөлініп шығып, мемлекеттік егемендігін жарялауына жеткізді.

### 30-билет

1. XIV – XV ғғ. Қазақстандағы мал шаруашылығы мен егіншілік.
2. Тәуелсіз Қазақстан республикасының білім беру жүйесіндегі реформалар.
3. Неолит дәуіріндегі адамдардың тұрақтары бойынша кестені толтырыңыз.

<b>Тұрақтар</b>	<b>Орналасқан жері</b>	<b>Ерекшеліктері</b>
Уст-Нарым		
Пеньки		
Сексеуіл		